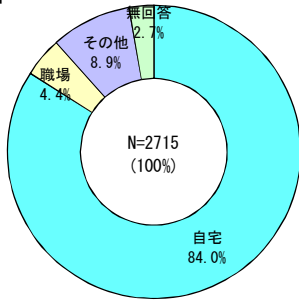


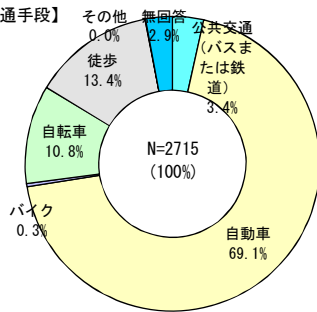
買い物と環境に関するアンケート調査結果

質問A 問1 この調査票を受け取った日のお買い物についておたずねします。
あなたが本日、アビタ千代田橋店に行ったときに利用した交通手段と所要時間(片道)を以下の記入例を参考にお答えください。

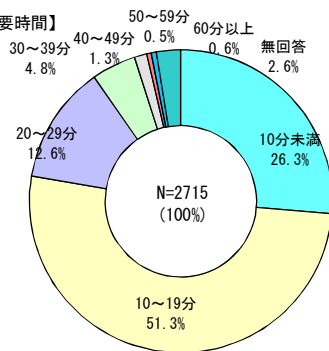
【出発地】



【交通手段】



【所要時間】

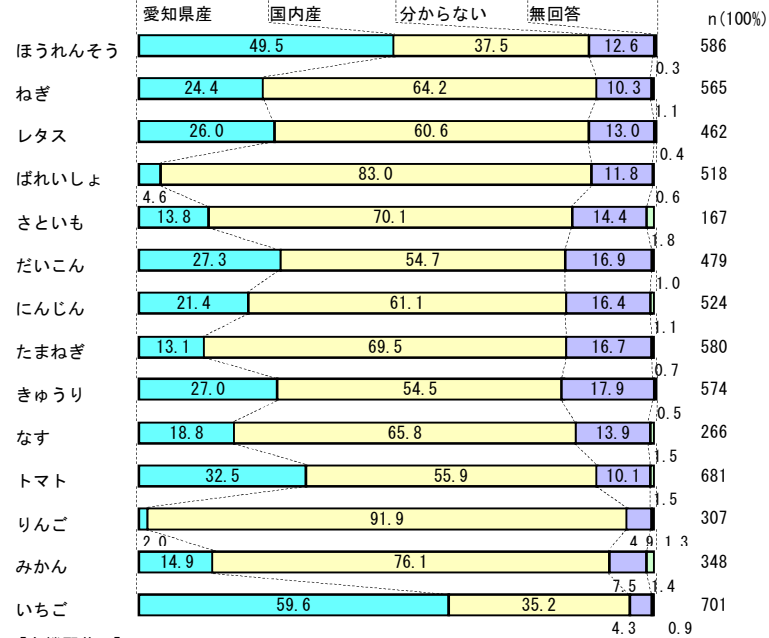


問2 以下の食品のうち、あなたが本日アビタ千代田橋店で購入したものはありますか。また、購入したものについて産地や有機栽培かどうか、包装されているかどうかについて当てはまるものを□の中からお選びください。

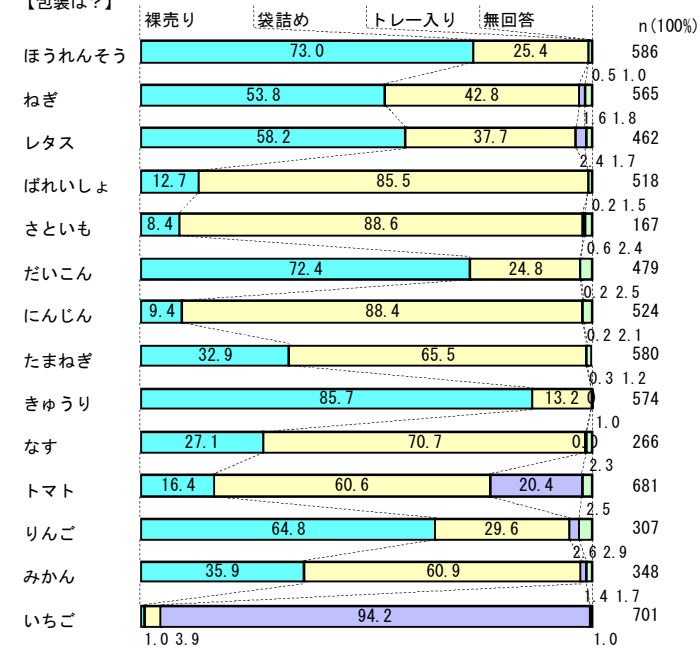
【購入しましたか】

	購入した	購入していない	無回答	N(100%)
ほうれんそう	21.6	69.2	9.2	2715
ねぎ	20.8	69.1	10.1	2715
レタス	17.0	72.0	10.9	2715
ばれいしょ	19.1	70.0	10.9	2715
さといも	6.2	81.5	12.3	2715
だいこん	17.6	71.9	10.5	2715
にんじん	19.3	69.8	10.9	2715
たまねぎ	21.4	68.2	10.5	2715
きゅうり	21.1	68.7	10.2	2715
なす	9.8	77.8	12.4	2715
トマト	25.1	64.7	10.2	2715
りんご	11.3	76.3	12.4	2715
みかん	12.8	75.0	12.2	2715
いちご	25.8	63.8	10.4	2715


【産地は？】



【包装は？】

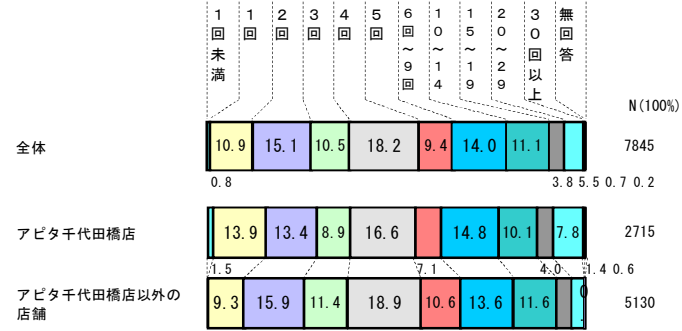


【有機野菜？】


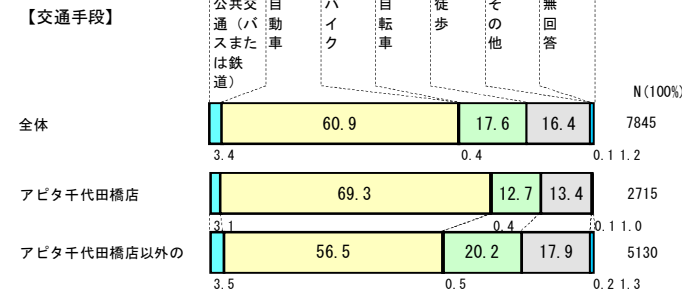
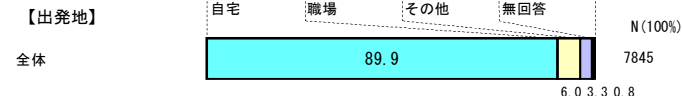


質問B あなたが普段お買い物に行くときの移動についておたずねします。
 問1 あなたが食料品、日用品などの買い物でよく行くお店をアビタ千代田店を含めて3つまでお答えください。
 (← 略 →)



問2 質問B問1でお答えになった店舗には、1ヶ月で何回程度行きますか？それぞれの店舗ごとにお答えください。



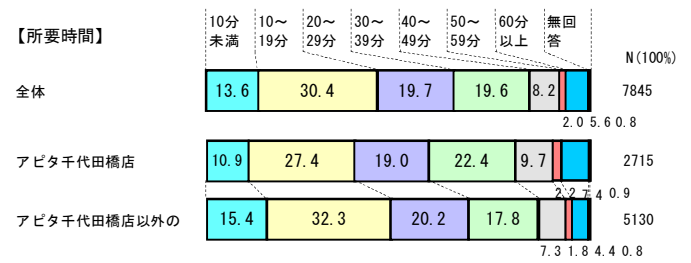
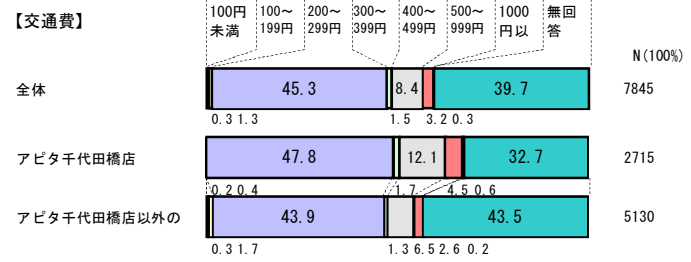
問3 質問B問1でお答えになった店舗へ行く際の出発地、最もよく利用する交通手段、所要時間(片道)以下の記入例を参考に、それぞれの店舗ごとにお答えください。



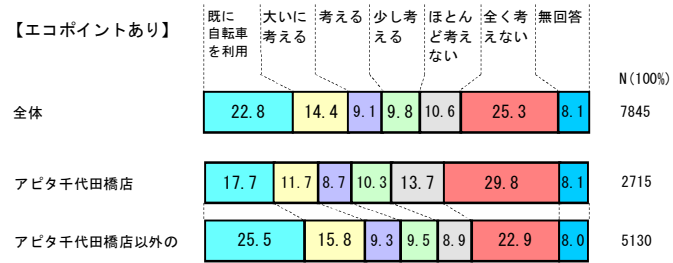
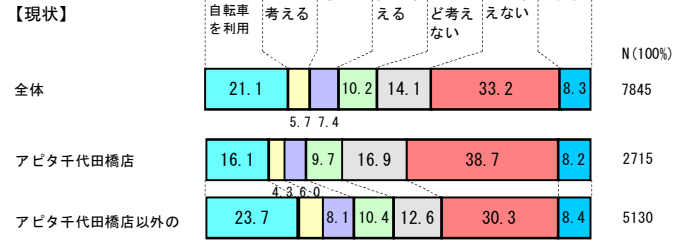
問4(1) 質問B問1でお答えになった店舗へ行く際、公共交通の利用を考えますか？また、もし、公共交通を利用するとエコポイントがもらえる場合、公共交通の利用を考えますか？




問4(2) 質問B問1でお答えになった店舗へ行く際、公共交通を利用した場合にかかる費用と時間は片道でどれくらいですか。



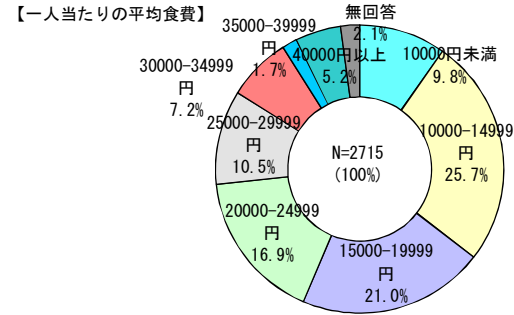
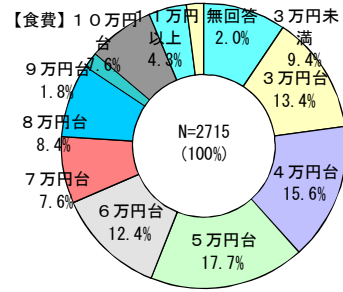
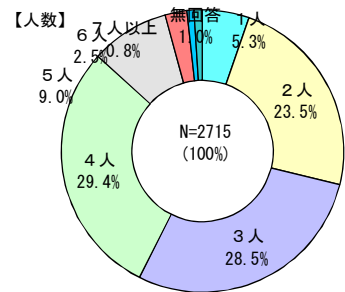
問5(1) 質問B問1でお答えになった店舗へ行く際、自転車の利用を考えますか？
また、もし、自転車を利用するとエコポイントがもらえる場合、自転車の利用を考えますか？



問5(2) 質問B問1でお答えになった店舗へ行く際、自転車を利用した場合にかかる時間(片道)はどれくらいですか。



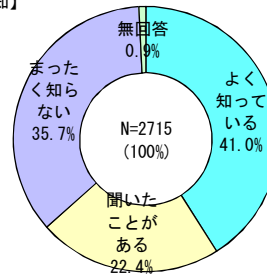
質問C あなたの普段のお買い物についておたずねします。
問1 1ヶ月にかかる食費は何人でいくらですか。



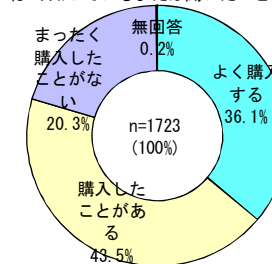
問2 ユニーやアビタで販売されている以下の環境配慮商品をご存知ですか。また、購入したことはありますか。

■卵きらら

【認知】

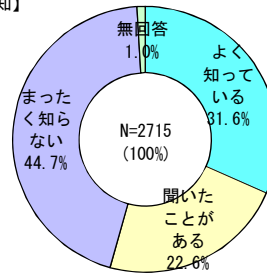


【購入】(よく知っているまたは聞いたことがある方)

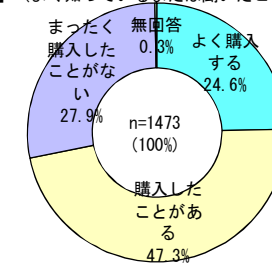


■アローサ

【認知】

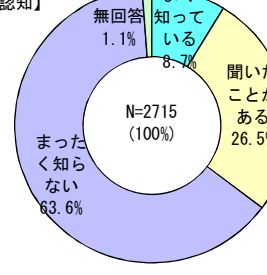


【購入】(よく知っているまたは聞いたことがある方)

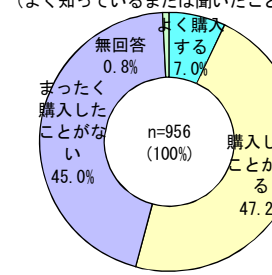


■循環型野菜


【認知】



【購入】(よく知っているまたは聞いたことがある方)

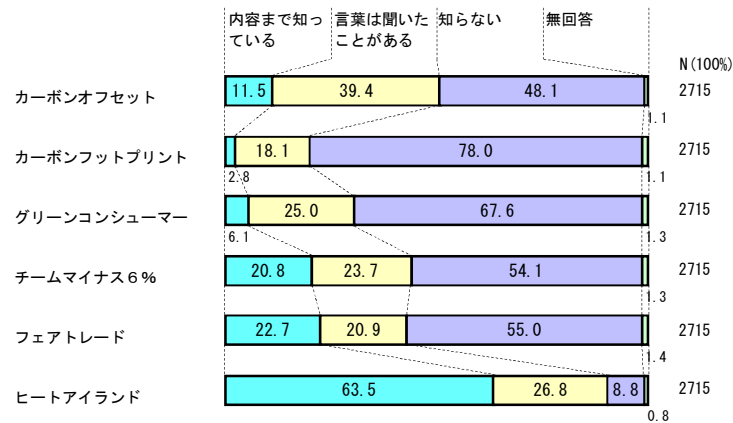


問3 商品を購入する際に、以下のAからKまでをどの程度実行していますか。



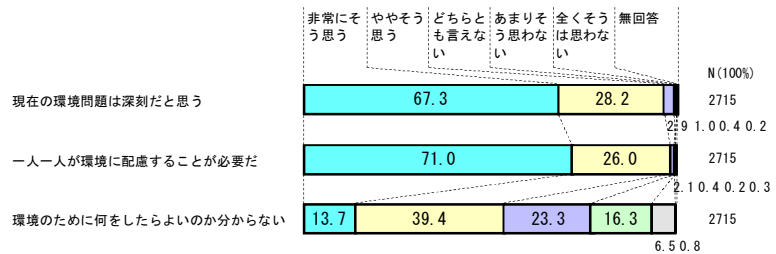
質問D 環境問題やあなたの普段の行動についておたずねします。

問1 AからFまでの項目についてご存知ですか、もっともあてはまるものに1つずつ○を付けてください。



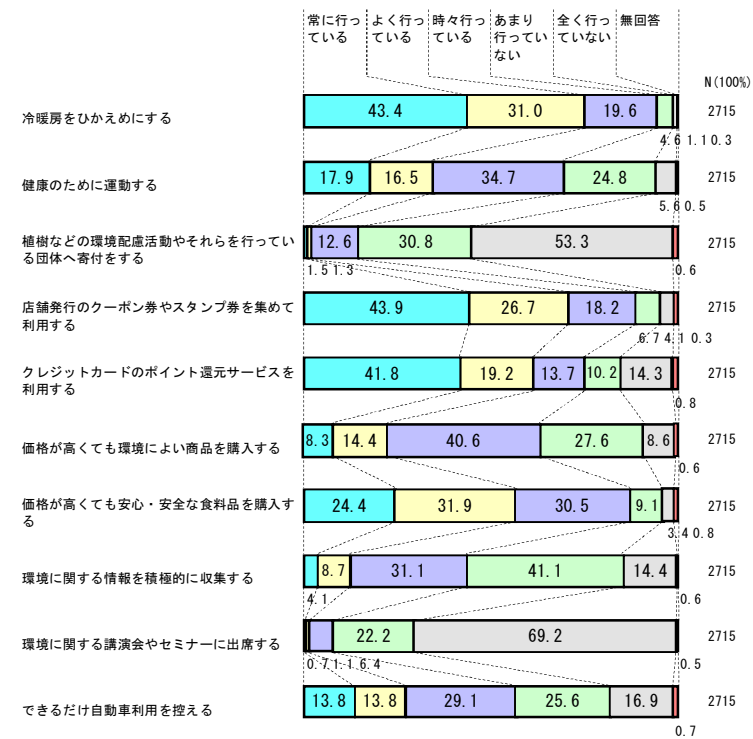
問2

AからCまでの項目について、あなたの意見にもっともあてはまるものに1つずつ○を付けてください。

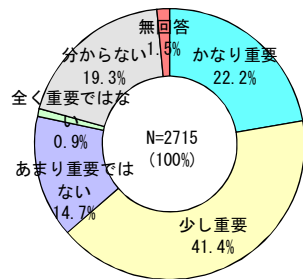


問3

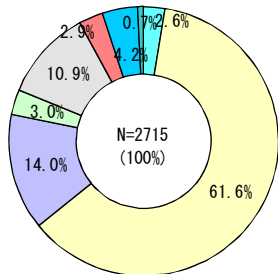
AからJまでの項目について、毎日の暮らしの中でどの程度行っているか、もっともあてはまるものに1つずつ○を付けてください。



質問E
問1 エコな取組みについて、あなたのご意見をおたずねします。
商品が作られてから捨てられるまでのCO2排出量がパッケージに表示される取組み（カーボンラベル）についてお聞きします。商品にCO2排出量が表示されることは重要だと思いますか？

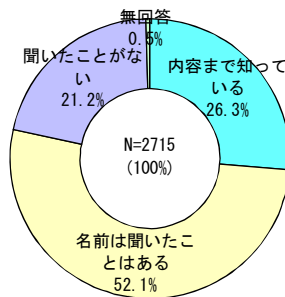


問2 商品にCO2排出量が表示されている場合に、CO2排出量の少ない商品を購入しますか？
もっともあてはまるものに1つだけ○を付けてください。

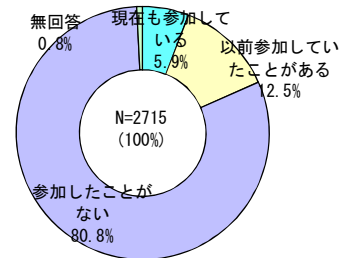


- 基本的に高くても買う
- 基本的に安く買いたがる
- 品目によるが安く買いたがる
- 品目によるが同じ価格なら買う
- CO2排出量表示の有無は関係ない
- 無回答

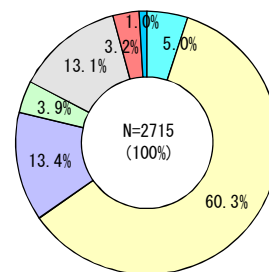
問3 EXPOエコマネーはご存知ですか？



問4 EXPOエコマネーに参加していますか？

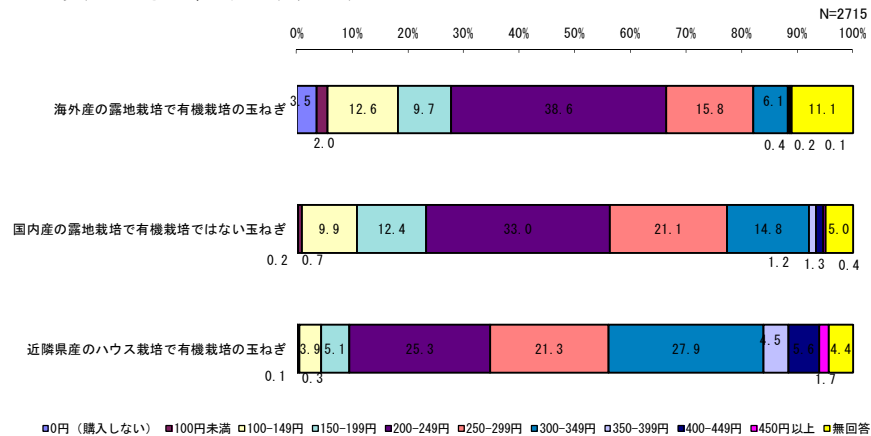


問5 近隣で取れた農産物や有機栽培などのエコな食品を購入するとエコポイントが付与されるとしたら、エコポイントがもらえる食品を購入しますか？
もっともあてはまるものに1つだけ○を付けてください。



- 基本的に高くても買う
- 基本的に安く買いたがる
- 品目によるが安く買いたがる
- 品目によるが同じ価格なら買う
- CO2排出量表示の有無は関係ない
- 無回答

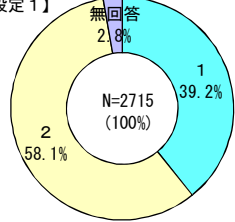
問6 海外産のハウス栽培で有機栽培ではない玉ねぎが3個入り1袋200円で売られているとします。
以下の玉ねぎには、いくらまで支払いますか？



問7

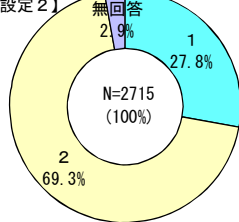
以下に、値段、CO2排出量、エコポイント付与の有無が異なる2種類のトマトを並べています。CO2排出量とは、生産から輸送までに排出されたCO2量(g-CO2/個)であり、エコポイント付与とはそのトマトを購入するとエコポイントがもらえるかどうかを表しています。2種類を比較して、あなたが購入すると思う方に○を付けてください。

【設定1】



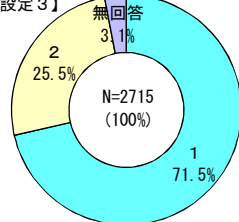
系列1	
値段	1個140円
CO2排出量	100g(エアコン3時間分)
エコポイント	付与あり
系列2	
値段	1個100円
CO2排出量	200g(エアコン6時間分)
エコポイント	付与なし

【設定2】



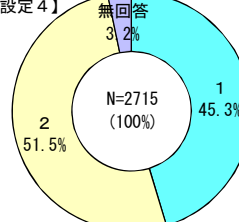
系列1	
値段	1個100円
CO2排出量	100g(エアコン3時間分)
エコポイント	付与なし
系列2	
値段	1個60円
CO2排出量	200g(エアコン6時間分)
エコポイント	付与あり

【設定3】



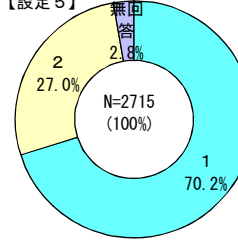
系列1	
値段	1個60円
CO2排出量	300g(エアコン9時間分)
エコポイント	付与あり
系列2	
値段	1個140円
CO2排出量	100g(エアコン3時間分)
エコポイント	付与なし

【設定4】



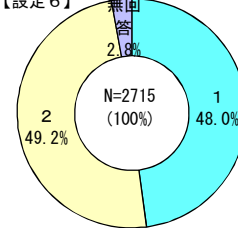
系列1	
値段	1個100円
CO2排出量	200g(エアコン6時間分)
エコポイント	付与あり
系列2	
値段	1個60円
CO2排出量	300g(エアコン9時間分)
エコポイント	付与なし

【設定5】



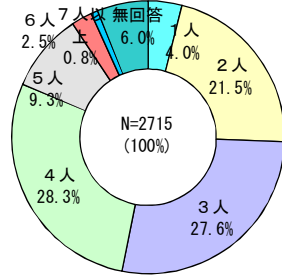
系列1	
値段	1個60円
CO2排出量	200g(エアコン6時間分)
エコポイント	付与なし
系列2	
値段	1個100円
CO2排出量	200g(エアコン6時間分)
エコポイント	付与あり

【設定6】

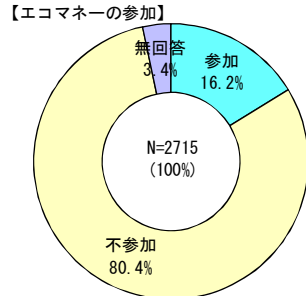
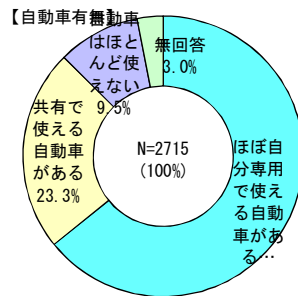
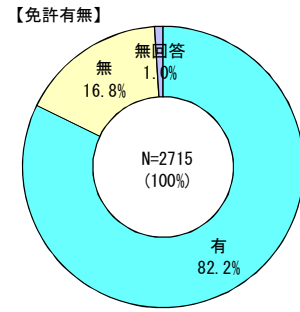
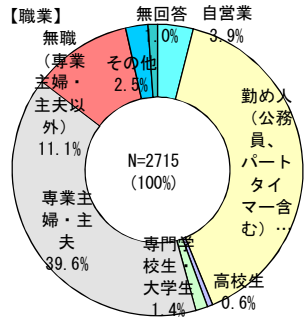
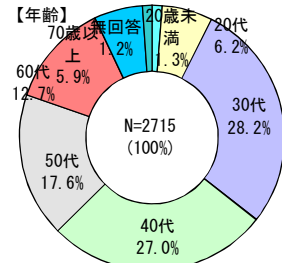
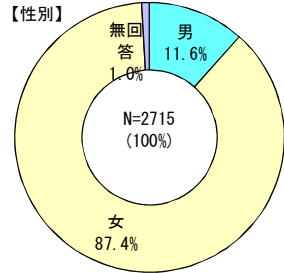


系列1	
値段	1個140円
CO2排出量	100g(エアコン3時間分)
エコポイント	付与あり
系列2	
値段	1個100円
CO2排出量	300g(エアコン9時間分)
エコポイント	付与なし

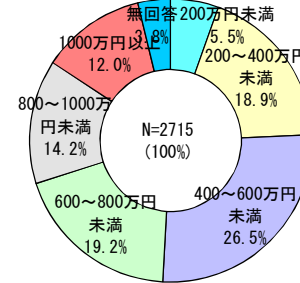
質問F 問1 あなたご自身とあなたの世帯の方についておたずねします。あなたはあなたご自身を含めて何人でお住まいですか。



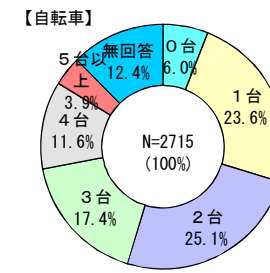
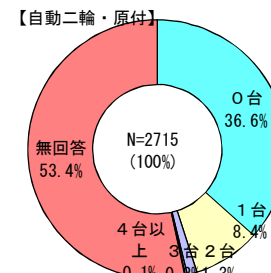
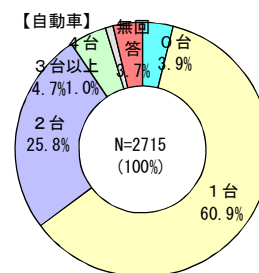
問2 あなたご自身とあなたの世帯のすべての方について記入してください。(回答者のみ集計)



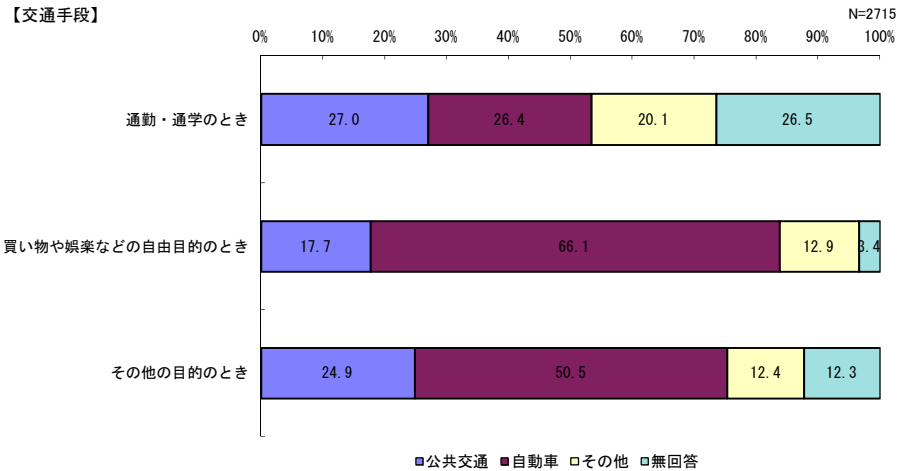
問3 あなたの世帯のおおよその年収を教えてください。



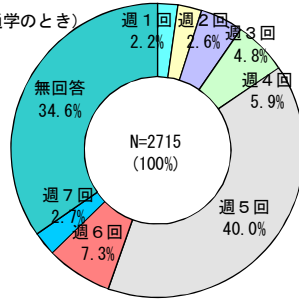
問4 世帯でお持ちの自動車・自転車等の台数をお答えください。



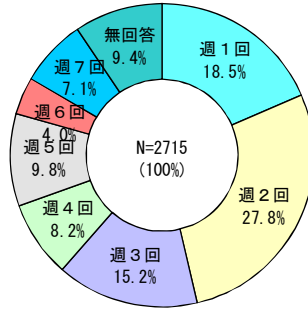
問5 普段の交通行動についてお聞きします。通勤・通学や買い物などで利用する交通手段や外出回数についてお答えください。交通手段は主なものに1つだけ○を付けてください。



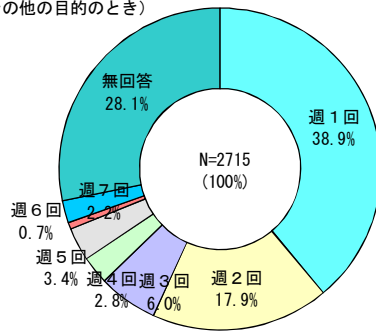
【回数】（通勤・通学のとき）



【回数】（買い物や娯楽などの自由目的のとき）

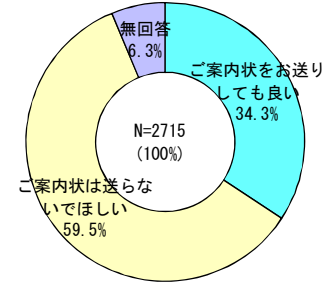


【回数】（その他の目的のとき）

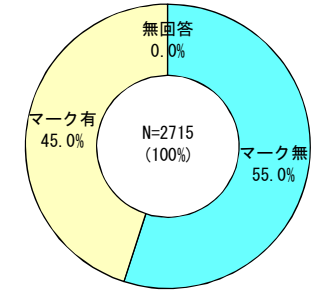


問6

本プロジェクトでは、市民の皆様を対象に様々な講演会やイベント等の開催を予定しております。ご案内をお送りさせていただいてもよろしいでしょうか。

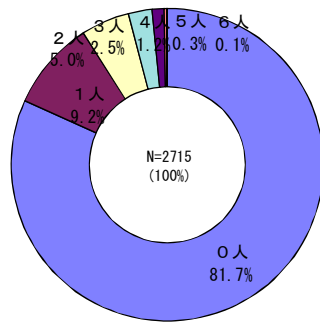


■原稿区分（原稿へのマークの有無）



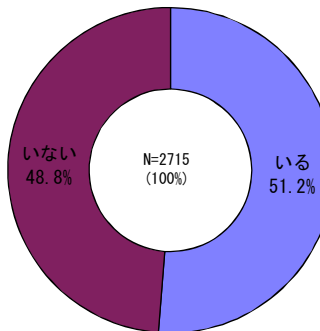
回答者世帯集計

■世帯内でのEXPOマナー参加者



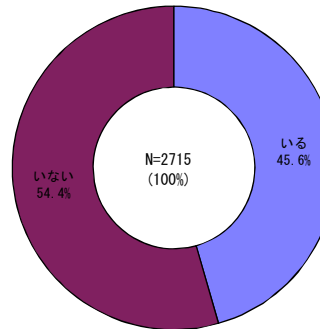
※無回答は、EXPOマナー不参加者とした。

■18才以下の子供がいる世帯数



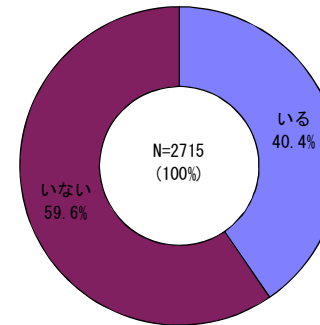
※職業に関わらず、18歳以下を「いる」とした。

■中学生以下の子供がいる世帯数



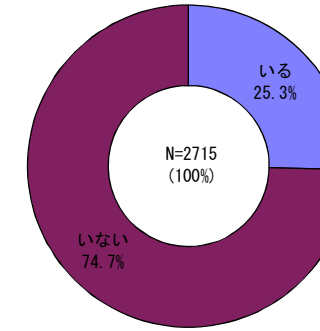
※14歳以下全員と、15歳は職業がその他を中学生とした。(職業無回答は中学生に含めず)

■小学生以下の子供がいる世帯数

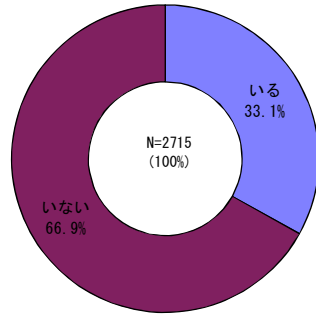


※12歳以下を「いる」とした。

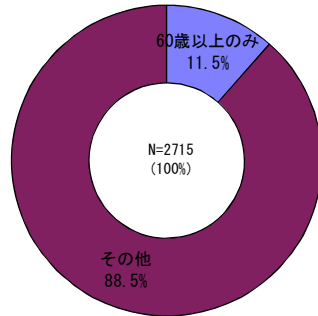
■6歳以下の子供がいる世帯数



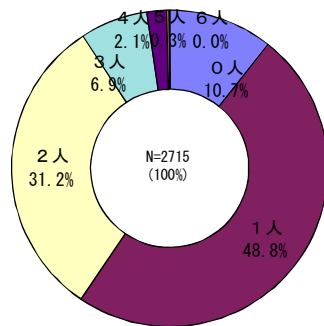
■60歳以上がいる世帯数



■60歳以上のみの世帯数



■世帯中の有職者数



※職業無回答は非有職者とした。